

Questions en aide à l'apprentissage

Question à choix multiples.

Fiche à compléter - 1

Leçon: 6.02

QUESTION:

L'orientation des routes du réseau routier québécois est en fonction de quel élément?

CHOIX DE RÉPONSE: Une seule réponse possible **X**
Plusieurs réponses possibles

A) La rose des vents

Bonne réponse
() cocher

B) Des points cardinaux

Bonne réponse
() cocher

C) Du fleuve St-Laurent

Bonne réponse
() cocher

D) Du soleil

Bonne réponse
() cocher

Rétroaction si mauvaise réponse:

Question à choix multiples.

Fiche à compléter - 2

Leçon: 6.02

QUESTION: Selon la carte du réseau du camionnage, est-il possible de circuler sur les routes identifiées en jaune?	
CHOIX DE RÉPONSE: Une seule réponse possible X Plusieurs réponses possibles	
A) Oui, pas de souci.	Bonne réponse () cocher
B) Non, je dois circuler sur les routes identifiées en vert seulement.	Bonne réponse () cocher
C) Oui, mais je dois valider si mon ensemble de véhicules respecte toutes les restrictions de cette route.	Bonne réponse () cocher
D) Non, car les véhicules lourds ont toujours des restrictions.	Bonne réponse () cocher
Rétroaction si mauvaise réponse:	

Question à choix multiples.

Fiche à compléter - 3

Leçon: 6.02

QUESTION:

Que signifie ce symbole, sur la carte du réseau du camionnage?



CHOIX DE RÉPONSE: Une seule réponse possible **X**
Plusieurs réponses possibles

A) La présence d'une structure tel un viaduc peu importe la hauteur.

Bonne réponse
() cocher

B) La présence d'une structure tel un viaduc la hauteur qui a une hauteur libre inférieure à 4,15 mètres.

Bonne réponse
() cocher

C) La distance entre deux points.

Bonne réponse
() cocher

D) Une route à double sens.

Bonne réponse
() cocher

Rétroaction si mauvaise réponse:

Question à choix multiples.

Fiche à compléter - 4

Leçon: 6.02

QUESTION:

À l'aide de la carte du réseau du camionnage, quel outil me permet de déterminer rapidement la distance entre deux villes?

CHOIX DE RÉPONSE: Une seule réponse possible **X**
Plusieurs réponses possibles

A) L'échelle

Bonne réponse
() cocher

B) Une règle

Bonne réponse
() cocher

C) La classification de la route

Bonne réponse
() cocher

D) Le tableau des distances

Bonne réponse
() cocher

Rétroaction si mauvaise réponse:

Question - Vrai ou Faux.

Fiche à compléter - 5

Leçon: 6.02

QUESTION:

La distance entre Saint-Hyacinthe et Joliette est de 108 km.

CHOIX DE RÉPONSE:

VRAI

Bonne réponse
() cocher

FAUX

Bonne réponse
() cocher

Rétroaction si mauvaise réponse:

Question - Vrai ou Faux.

Fiche à compléter - 6

Leçon: 6.02

QUESTION:

Les numéros des sorties d'une autoroute vont en croissant en se dirigeant vers l'ouest.

CHOIX DE RÉPONSE:

VRAI

Bonne réponse
() cocher

FAUX

Bonne réponse
() cocher

Rétroaction si mauvaise réponse:

Question - Vrai ou Faux.

Fiche à compléter - 7

Leçon: 6.02

QUESTION:

Cette autoroute est une route de contournement.



CHOIX DE RÉPONSE:

VRAI

Bonne réponse
() cocher

FAUX

Bonne réponse
() cocher

Rétroaction si mauvaise réponse:

Question à choix multiples.





Fiche à compléter - 8

Leçon: 6.02

QUESTION:

Identifiez la ou les routes nationales?

CHOIX DE RÉPONSE: Une seule réponse possible
Plusieurs réponses possibles **X**

A) 	Bonne réponse () cocher
B) 	Bonne réponse () cocher
C) 	Bonne réponse () cocher
D) 	Bonne réponse () cocher

Rétroaction si mauvaise réponse:

Question - Vrai ou Faux.

Fiche à compléter - 9





Leçon: 6.02

QUESTION: Les numéros des routes régionales sont divisés par le fleuve St-Laurent.	
CHOIX DE RÉPONSE:	
VRAI	Bonne réponse () cocher
FAUX	Bonne réponse () cocher
Rétroaction si mauvaise réponse:	

Question à choix multiples.

Fiche à compléter - 10

Leçon: 6.02

QUESTION: Quelles sont les routes ayant une orientation nord-sud?	
CHOIX DE RÉPONSE: Une seule réponse possible Plusieurs réponses possibles X	
A) 	Bonne réponse () cocher
B) 	Bonne réponse () cocher
C) 	Bonne réponse () cocher
D) 	Bonne réponse () cocher
Rétroaction si mauvaise réponse:	

Question à choix multiples.

Fiche à compléter - 11

Leçon: 6.02

QUESTION: Quelle est la coordonnée (carrelage) de la ville de Victoriaville?	
CHOIX DE RÉPONSE: Une seule réponse possible X Plusieurs réponses possibles	
A) K9	Bonne réponse () cocher
B) M34	Bonne réponse () cocher
C) Latitude 46.0606 et longitude -71.9477	Bonne réponse () cocher
D) I28	Bonne réponse () cocher
Rétroaction si mauvaise réponse:	

Question - Vrai ou Faux.

Fiche à compléter - 12

Leçon: 6.02

QUESTION:

Suite à la planification d'un itinéraire à l'aide de la carte du réseau de camionnage du Québec, je peux prendre la route sans me soucier des interdictions de circuler en camion.

CHOIX DE RÉPONSE:

VRAI

Bonne réponse
() cocher

FAUX

Bonne réponse
() cocher

Rétroaction si mauvaise réponse:

Question - Vrai ou Faux.

Fiche à compléter - 13

Leçon: 6.02

QUESTION:

Tous les postes de pesées et les aires de contrôles de la SAAQ sont identifiés sur la carte.

CHOIX DE RÉPONSE:

VRAI

Bonne réponse
() cocher

FAUX

Bonne réponse
() cocher

Rétroaction si mauvaise réponse:

Question à choix multiples.

Fiche à compléter - 14

Leçon: 6.02

QUESTION:

Dans le tableau des distance, la distance entre Montréal et Baie-Comeau est de 671 km. Cependant, un astérix est présent avec cette distance.

Que signifie cet astérix?	
CHOIX DE RÉPONSE: Une seule réponse possible X Plusieurs réponses possibles	
A) Un trajet ayant une distance peu précise.	Bonne réponse () cocher
B) Un trajet qui comporte des travaux.	Bonne réponse () cocher
C) Un trajet qui implique un traversier.	Bonne réponse () cocher
D) Un trajet qui implique un poste de péage.	Bonne réponse () cocher
Rétroaction si mauvaise réponse:	

Question - Vrai ou Faux.

Fiche à compléter - 15

Leçon: 6.02

QUESTION:	
L'autoroute 19 se situe à l'est de l'autoroute 25.	
CHOIX DE RÉPONSE:	
VRAI	Bonne réponse () cocher
FAUX	Bonne réponse () cocher

Rétroaction si mauvaise réponse: